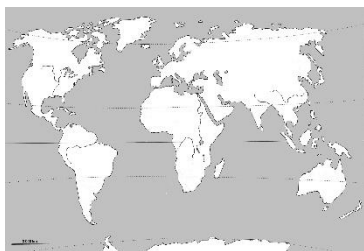


### Activité 3 : Situer et localiser des espaces à différentes échelles.

**Exercice 1 :** À l'aide de la méthode ZOOM et de tes connaissances, indique pour chaque carte son échelle et le nom du territoire. Aide-toi de ton grand planisphère pour reconnaître la forme du continent !



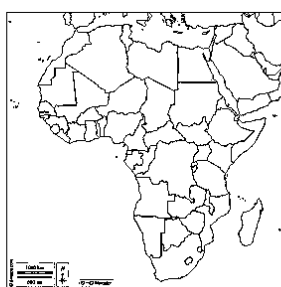
Échelle \_\_\_\_\_



Nom : \_\_\_\_\_  
Échelle \_\_\_\_\_



Nom : \_\_\_\_\_  
Échelle \_\_\_\_\_



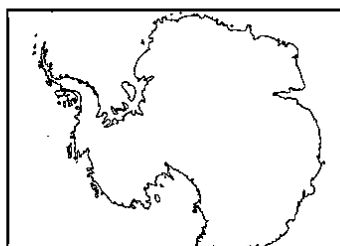
Nom : \_\_\_\_\_  
Échelle \_\_\_\_\_



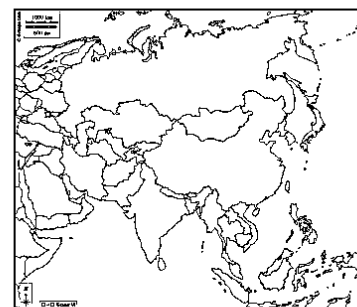
Nom : \_\_\_\_\_  
Échelle \_\_\_\_\_



Nom : \_\_\_\_\_  
Échelle \_\_\_\_\_



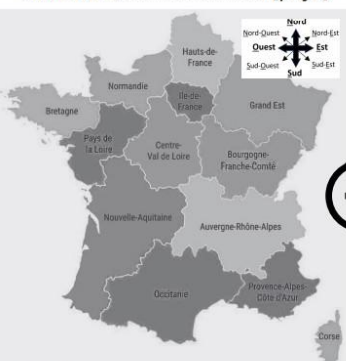
Nom : Antarctique  
Échelle \_\_\_\_\_



Nom : \_\_\_\_\_  
Échelle \_\_\_\_\_

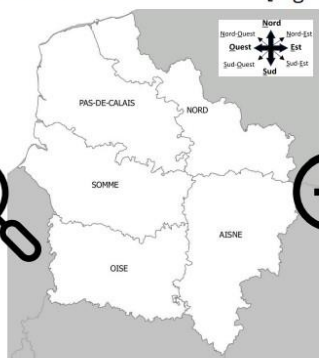
Indices pour les cartes ci-dessous. Notre région s'appelle les « Hauts-de-France » et notre département « l'Oise ».

Carte de la ..... [pays]



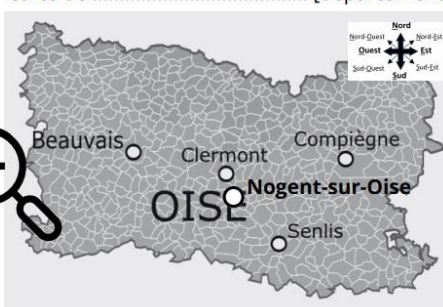
Échelle \_\_\_\_\_

Carte des ..... [région]



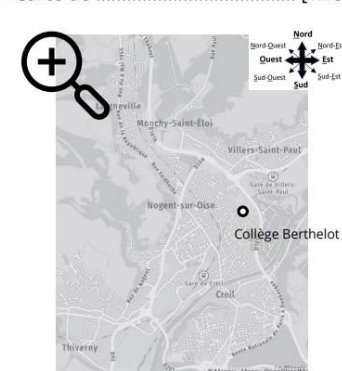
Échelle \_\_\_\_\_

Carte de ..... [département]



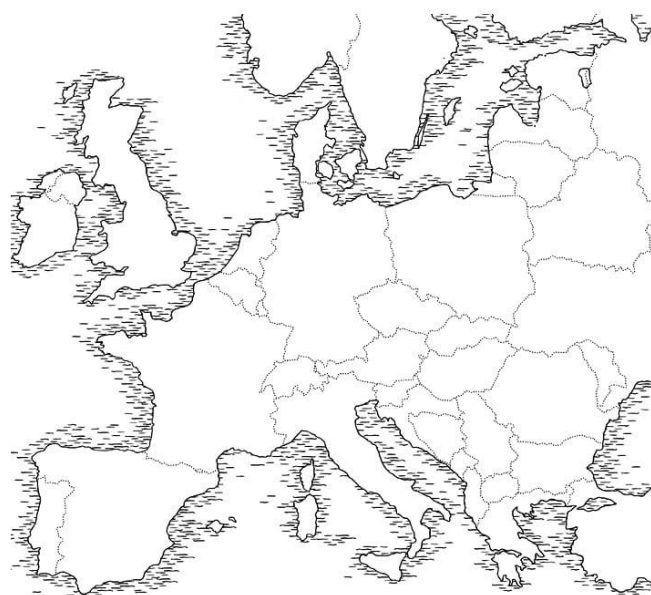
Échelle \_\_\_\_\_

Carte de ..... [ville]



Échelle \_\_\_\_\_

### Activité 4 : Localiser et situer en géographie



**Exercice 1 :** Localise sur la carte les pays suivants en y écrivant leur chiffre à l'aide de la carte au tableau.

France (1), Espagne (2), Angleterre (3), Belgique (4), Luxembourg (5), Italie (6), Andorre (7), Suisse (8).

**Exercice 2 :** Localise en bleu majuscule sur la carte « Océan ATLANTIQUE » à l'aide de la carte au tableau.

**Exercice 3 :** Localise en bleu sur la carte « Manche », « Mer Méditerranée » à l'aide de la carte au tableau.

**Exercice 4 :** Situe les pays suivants par rapport à la France. Complète les trous par le bon point cardinal de la rose des vents.

- L'Allemagne se situe \_\_\_\_\_ de la France.
- L'Espagne se situe \_\_\_\_\_ de la France.
- La Mer Méditerranée se situe \_\_\_\_\_ de la France.
- L'Océan Atlantique se situe \_\_\_\_\_ de la France.
- La Suisse se situe \_\_\_\_\_ de la France.